

ينبغي ضرب الأطفال

تجريب




تجريم



تجريم



تجريب



أحد اختياري

40. عندما تُرجع قلمًا رديئًا وتَسْتَرِي آخرَ جيداً تقول

استبدلت بالقلم الرديء قلمًا جيداً

استبدلت بالقلم الجيد قلمًا رديئًا

استبدلت القلم الرديء بالقلم الجيد

كل ما ذكر غير صحيح

باع عمر سيارة بمبلغ (4800) ريال، فكان ربحه منها (20%) من ثمن شرائها، ما هو ثمن السيارة الأصلي؟

3840

4000

5760

4820

منظر الزحام

مربع

مراوح

مدوع

مرتاع

أحد اختياري

أي نوع من أنواع الذاكرة التالية يحتفظ بالبيانات بشكل دائم؟

a. ROM (ذاكرة القراءة فقط)

b. CPU (وحدة المعالجة المركزية)

c. RAM (ذاكرة الوصول العشوائي)

d. CACHE (ذاكرة الكاش)

They go to the cinema

tomorrow

much

seldom

rare

أقل اختياري

This is the best tea I've tasted

ever

still

never

already

What is your home town.....?

like



situated



age



located



أختر اختياري

..... المكتبة العربية بالكتب العمانية

نخر

نخر

نخر

نخر

أدخل اختياري

تقابل ستة أشخاص في مكان ما ، فإذا صافح كل شخص منهم الآخر مرة واحدة فقط ، فكم عدد المصافحات التي تمت ؟

15 مرة

18 مرة

12 مرة

ست مرات

أدخل اختياري

How are you?


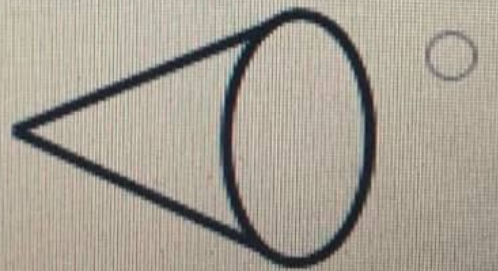

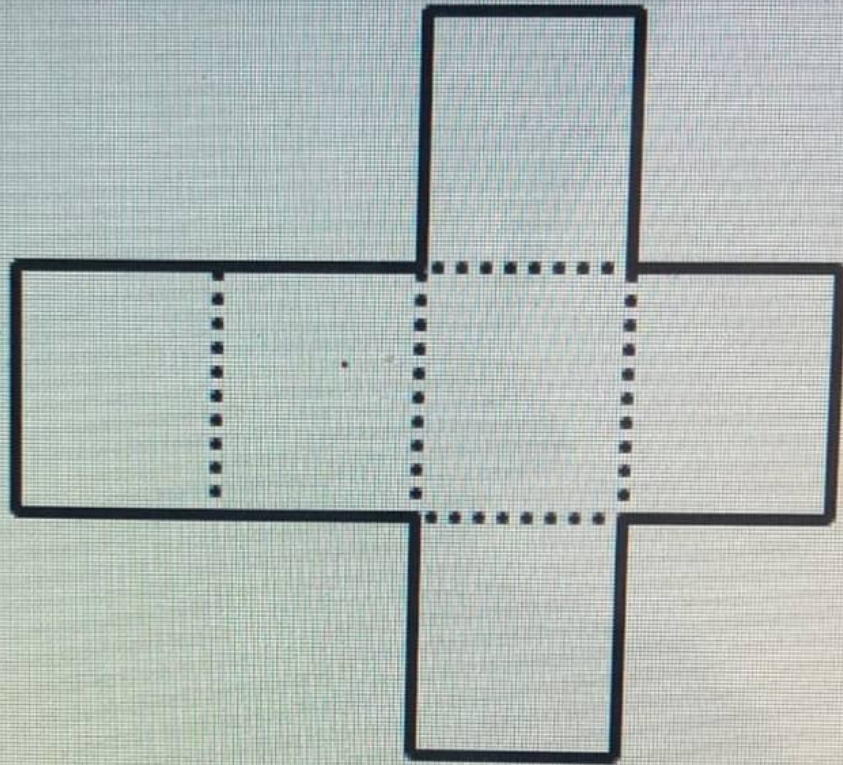
long

heavy

high

wide

37. عند طي الورقة المقابلة على الخطوط المنقوطة فإن الشكل النهائي يكون



عدد سماع يجرب المسلم

الأذان

الأذان

الإذان

الإذان

٤

I work as a teacher and my wife, too


do

work

is

does

أدخل الاختياري



باع عمر سيارة بمبلغ (4800) ريال، فكان ربحه منها (20%) من ثمن شرائها، ما هو ثمن السيارة الأصلي؟

3840

4000

5760

4820

أدخل اختياري

بعد الخمسين تبدأ أعراض

الطفولة

الكهولة

الشيخوخة

الرجولة

لا أحدا

تلمعت



تلمعت



تلمعت



تلمعت



يَسْتَمَل الصف الحادي عشر بمدرسة كنوز العلم على (40) طالباً، اشترك (22) طالباً منهم في النشاط الثقافي، في حين اشترك في النشاط الرياضي (15) طالباً، و (7) طلاب منهم في النشاطين معاً. كم عدد طلاب هذا الصف الذين لم يَشتركوا بأي نشاط؟

30 طالباً

3 طلاب

المعلومات المعطاة غير كافية

10 طلاب

أقل اختياري

بمناسبة العيد الوطني اشترى علي عشرة أعلام عمانية بسعر ريالين للعلم الواحد، وخصم له 5% من السعر الإجمالي للأعلام، فكم ريالاً دفع قيمة الأعلام؟

19.5 ريال

20 ريال

21 ريال

19 ريال

بمناسبة العيد الوطني اتتري على عشرة أعلام عمانية بسعر ريالين للعلم الواحد، وخصم له 5% من السعر الإجمالي للأعلام، فكم ريالاً دفع قيمة الأعلام؟

19.5 ريال

20 ريال

21 ريال

19 ريال

أختر اختياري

واحدة من هذه العبارات خاطئة :

الملفات الإلكترونية تستهلك كمية كبيرة من الورق والقرطاسية

الملفات الإلكترونية يمكن إرسالها بالبريد الإلكتروني

الملفات الإلكترونية يمكن تخزينها

الملفات الإلكترونية يمكن حذفها

أحد اختياري

في إحدى البطولات الرياضية لكرة القدم، قام سعود بنسديد 10 ضربات جزاء في 15 مباراة، فأحرز أهدافاً بقدر نصف هذه الضربات، فكم سيكون عدد أهداف سعود
أزيد عدد هذه المباريات إلى 24 مباراة واستمر معدل الحصول على ضربات الجزاء والتسديد والإحراز ثابتاً لديه؟

عشرة أهداف

ستة أهداف

ستة عشر هدفاً

ثمانية أهداف

أي من الوحدات التالية يعتبر من المكونات الأساسية لجهاز الحاسوب؟

- الماسح الضوئي (Scanner)
- قارئ الترميز الخطي (Bar code Reader)
- شريط التخزين الممغنط (Tape Drive)
- وحدة المعالجة المركزية (CPU)

اختبارات || 2022

الصفحة الرئيسية / مقرراتي الدراسية / exam_2022_ar

التعليمات 

بعد هذا الاختبار أحد مراحل التنافس على شغل الوظائف المعن عنها للعمل الجزني بجامعة السلطان قابوس. وعلى كل مرشح أن يخضع لإجراءات الاختبار التي تقرها الجامعة في هذا الشأن

1. يظهر الاختبار في الوقت المحدد حسب الموعد المذكور في الرسالة النصية المرسله لك .
2. يتكون هذا الاختبار من 40 سؤال بنظام الاختيار من متعدد . توجد أربعة بدائل لكل سؤال، واحد منها فقط يعتبر صحيحا.
3. مدة الاختبار 45 دقيقة تحسب منذ بدء الاختبار
4. لا يمكن التنقل بين الأسئلة أو الرجوع لأي سؤال سابق حتى في حالة عدم الإجابة عليه. لذا، يجب الإجابة على كل سؤال قبل الانتقال للأسئلة التالية.
5. تظهر النتائج للمرشحين بعد تأدية الاختبار، وسيقوم الفريق المعني بالجامعة بالتواصل مع الذين أحرزوا النتائج المطلوبة وذلك حسب الإجراءات المقررة في هذا الشأن.

نرجو لكم التوفيق

امسقط هنا لبدء (الاختبار_10:30 ص)

Opens: الخميس، 21 يوليو 2022، 10:30 ص

Closes: الخميس، 21 يوليو 2022، 11:30 ص

علي أطول من حسان، وصالح أقصر من علي ولكنه ليس في طول حسان. أي من العبارات التالية صحيحة






لا يمكن معرفة من منهما أطول

صالح وحسان بطول واحد

صالح أطول من حسان

حسان أطول من صالح

أدخل اختياري



Did you anywhere interesting last weekend?

go

was

went

going

في إحدى البطولات الرياضية لكرة القدم، قام سعود بتسديد 10 ضربات جزاء في 15 مباراة، فأحرز أهدافاً بقدر نصف هذه الضربات، فكم سيكون عدد أهداف سعود لو ازداد عدد هذه المباريات إلى 24 مباراة واستمر معدل الحصول على ضربات الجزاء والتسديد والإحراز ثابتاً لديه؟

عشرة أهداف

ستة أهداف

ستة عشر هدفاً

ثمانية أهداف

يمارس ناصر و سعيد و أحمد كرة القدم ، و يمارس ناصر و أحمد كرة السلة ، بينما يمارس سعيد و خلفان التنس . من منهم يمارس كرة القدم و التنس؟

أحمد

ناصر

سعيد

خلفان

أدخل اختياري

صاحب متجر بإخراج 2% مما مر عليه من صناديق فاكهة بسبب تلفها فإذا كان عدد ما أخرجته ستة صناديق . فكم صندوقاً عليه ؟

300 صندوق

30 صندوق

120 صندوق

600 صندوق

وقت المتبقي 0:37:23

في إحدى البطولات الرياضية لكرة القدم، قام سعود بن عبدالعزيز بـ 10 ضربات جزاء في 15 مباراة، فلنحسب أهدافه بقدر نصف هذه الضربات، فكم سيكون عدد أهداف سعود لو ازداد عدد هذه المباريات إلى 24 مباراة واستمر معدل الحصول على ضربات الجزاء والتسجيل والإحراز كما كان؟

عشرة أهداف

ستة عشر هدفاً

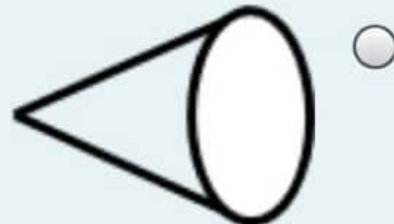
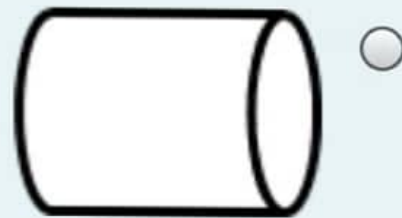

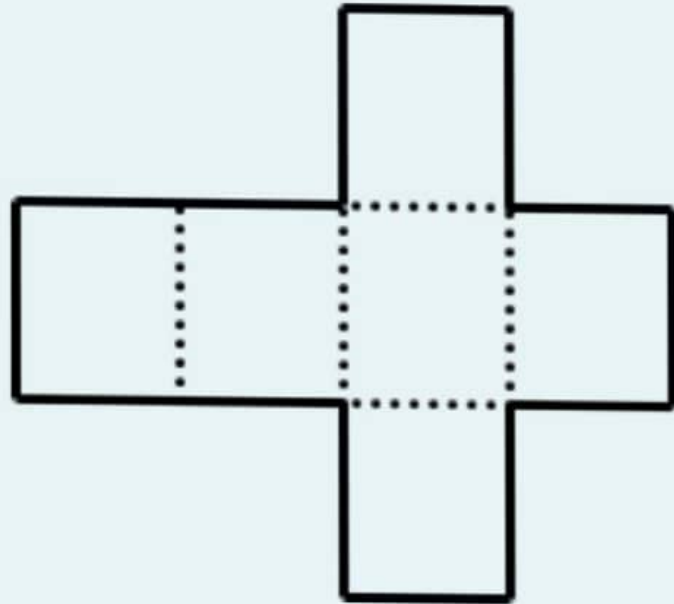
ستة أهداف

ثمانية أهداف

الصفحة التالية

الوقت المتبقي 0:25:20

37. عند طي الورقة المقابلة على الخطوط المنقوطة فإن الشكل النهائي يكون



الوقت المتبقي 0:20:28

سؤال 29

غير مجاب عليه بعد

الدرجة من 1

علم هذا السؤال

..... المكتبة العربية بالكتب العمانية

تذخر

تزحر

تزخر

تدخر

الصفحة التالية

تنقل الاختبار



سؤال 15

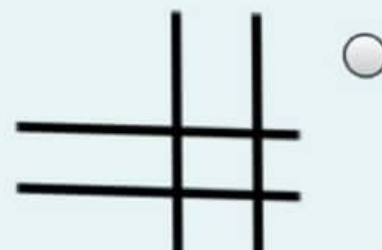
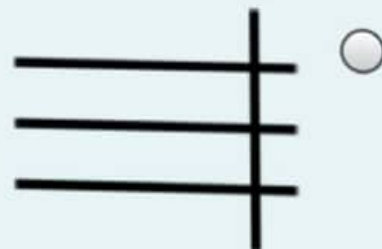
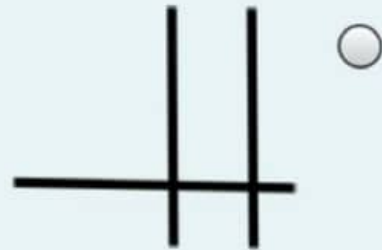
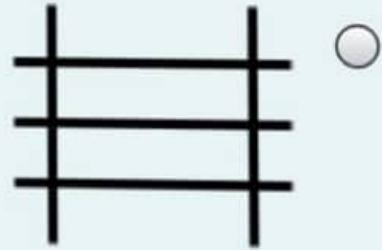
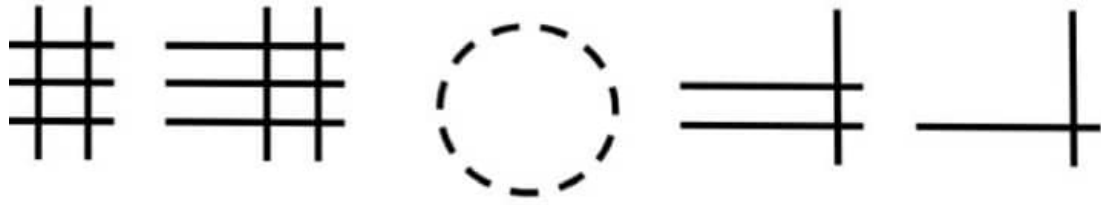
غير مجاب عليه بعد

الدرجة من 1

علم هذا السؤال

الوقت المتبقي 0:31:00

39. ما هو الشكل المكمل للسلسلة؟



اختبارات || 2022

الوقت المتبقي 0:09:56

سؤال 40

غير مجاب عليه بعد

الدرجة من 1

علم هذا السؤال

أي نوع من أنواع الذاكرة التالية يحتفظ بالبيانات بشكل دائم؟

- a. ROM (ذاكرة القراءة فقط)
- b. RAM (ذاكرة الوصول العشوائي)
- c. CPU (وحدة المعالجة المركزية)
- d. CACHE (ذاكرة الكاش)

إنهاء المحاولة ...



يشتمل الصف الحادي عشر بمدرسة كنوز العلم على (40) طالباً، اشترك (22) طالباً منهم في النشاط الثقافي، في حين اشترك في النشاط الرياضي (15) طالباً، واشترك (7) طلاب منهم في النشاطين معاً. كم عدد طلاب هذا الصف الذين لم يشتركوا بأي نشاط؟

3 طلاب

10 طلاب

المعلومات المعطاة غير كافية

30 طالباً



اختبارات || 2022

الوقت المتبقي 0:27:18

سؤال 22

غير مجاب عليه بعد

الدرجة من 1

علم هذا السؤال

تقابل ستة أشخاص في مكان ما ، فإذا صافح كل شخص منهم
الآخر مرة واحدة فقط ، فكم عدد المصافحات التي تمت ؟

12 مرة

18 مرة

ست مرات

15 مرة

الصفحة التالية



اختبارات || 2022

الوقت المتبقي 0:17:34

سؤال 33

غير مجاب عليه بعد

الدرجة من 1

علم هذا السؤال

يعتبر النسخ الاحتياطي للبيانات مهم :

- لجعل البيانات متوفرة لجميع المستخدمين
- لحماية البيانات عند حدوث عطل في جهاز الحاسوب
- لإرسال البيانات عبر شبكة الإنترنت
- لأنها من الخطوات الرئيسية لإجراء تعديل في البيانات

الصفحة التالية

تنقل الاختبار



الوقت المتبقي 0:25:52

سؤال 23

غير مجاب عليه بعد

الدرجة من 1

علم هذا السؤال

ضبطت ساعة حائط على الساعة السادسة صباحاً وكانت هذه الساعة تتأخر 20 دقيقة كل ساعة، فسوف تشير عقارب الساعة عند الساعة السادسة مساءً إلى ؟

- الثالثة بعد الظهر
- الرابعة بعد الظهر
- الثانية بعد الظهر
- الخامسة بعد الظهر

الصفحة التالية

تنقل الاختبار



2022 ||

الوقت المتبقي 3:45

بمناسبة عيد الأضحى المبارك اشترى محمد حلوى بقيمة 50 ريال عماني، وأخبره التاجر أن قيمة الوعاء الفخاري أقل عن قيمة الحلوى بمبلغ 38 ريال، فما هو المبلغ الذي سيدفعه محمد لو رغب في شراء الحلوى في وعاء فخاري؟

62 ريال 12 ريال 88 ريال 50 ريال

الصفحة التالية





اختبارات || 2022

الوقت المتبقي 0:35:33

سؤال 12

غير مجاب عليه بعد

الدرجة من 1

علم هذا السؤال

لا أحدا

تتنصت

تتصمت

تتمصت

تتصنت

الصفحة التالية





اختبارات || 2022

الوقت المتبقي 0:32:32

سؤال 14

غير مجاب عليه بعد

الدرجة من 1

علم هذا السؤال

كم مرة ينطبق عقربا الساعة على بعضهما في اليوم الواحد؟

22 مرة

24 مرة

6 مرات

12 مرة

الصفحة التالية



2022 || ختبارات

Did you anywhere interesting last weekend?

go

going

was

went

40 سؤال

غير مجاب عليه بعد

الدرجة من 1

3 علم هذا السؤال

اختبارات || 2022

40. عندما تُرجع قلمنا ردينا وتشتري آخر جيداً نقول

- استبدلت بالقلم الرديء قلماً جيداً
- استبدلت بالقلم الجيد قلماً رديئاً
- استبدلت القلم الرديء بالقلم الجيد
- كل ما ذكر غير صحيح

سؤال 32

غير محاب عليه بعد

الدرجة من 1

3 علم هذا السؤال

2022 |

علي أطول من حسان، وصالح أقصر من علي ولكنه ليس في طول حسان. أي من العبارات التالية صحيحة؟

لا يمكن معرفة من منهما أطول

حسان أطول من صالح

صالح أطول من حسان

صالح وحسان بطول واحد



32°C Haze



اختبارات || 2022

بعد الخمسين تبدأ أعراض

الرجولة

الطفولة

الكهولة

الشيخوخة

أخذي اختياري

سؤال 37

غير مجاب عليه بعد

الدرجة من 1

3 علم هذا السؤال

اختبارات || 2022

الأخبار الصحيحة.....

عرفت

عرفت

عرفت

عرفت

سؤال 34

غير مجاب عليه بعد

الدرجة من 1

3 علم هذا السؤال



2022 || بارات

I'm afraid I here for your birthday party

- will be not
- am not being
- can't be
- have not to be

39

بانت عليه بعد

من 1

هذا السؤال

اختبارات || 2022

They go to the cinema

seldom

rare

much

tomorrow

سؤال 35

غير مجاب عليه بعد

الدرجة من 1

3 علم هذا السؤال



تبارات || 2022

واحدة من هذه العبارات خاطئة :

- الملفات الإلكترونية يمكن حذفها
- الملفات الإلكترونية يمكن تخزينها
- الملفات الإلكترونية يمكن إرسالها بالبريد الإلكتروني
- الملفات الإلكترونية تستهلك كمية كبيرة من الورق والقرطاسية

سؤال 33

ير محاب عليه بعد

فرحة من 1

عَم هذا السؤال



إعلان رقم 2022-7



إعلان الشواغر رقم 2022-6



إعلان رقم 2022-5



إعلان رقم 2022-4



إعلان رقم 2022-3

اختبارات || 2022

الوقت المتبقي 0:16:02

سؤال 35

غير مجاب عليه بعد

الدرجة من 1

علم هذا السؤال

يمارس ناصر و سعيد و أحمد كرة القدم ، و يمارس ناصر و أحمد كرة السلة ، بينما يمارس سعيد و خلفان التنس . من منهم يمارس كرة القدم و التنس؟

أحمد

خلفان

سعيد

ناصر

الصفحة التالية

تنقل الاختبار

اختبارات || 2022

الوقت المتبقي 0:14:51

سؤال 36
غير مجاب عليه بعد
الدرجة من 1
علم هذا السؤال

ينبغي ضرب الأطفال

- تجريح
- تجريب
- تجريم
- تجريد

الصفحة التالية

الوقت المتبقي 0:06:19

تنقل الامتحان



أسيما عبدالله عيسى العتيبي

21376246

4	3	2	1
13	12	11	10
22	21	20	19
31	30	29	28
0	39	38	37

Would you like help?

الصفحة التالية



بهاء المحرقة

2022 || اختبارات

They go to the cinema

- rare
- seldom
- much
- tomorrow

سؤال 29

محرر محاب عليه بعد

الترجمة من 1

3 عجم هذا السؤال

How are you?

high

heavy

wide

long

13

ب عليه بعد

ن 1

هذا السؤال

رات || 2022

فرحت بتجاحك

المنبهر

الباهر

البهير

المبهير

به بعد

سؤال



ت || 2022

Did you anywhere interesting last weekend?

go

went

going

was

2022



الوقت

تقابل سنة أنتخلص في مكان ما ، فإذا صافح كل شخص منهم الآخر مرة واحدة فقط ، فكم عدد المصافحات التي تمت ؟

12 مرة 18 مرة 15 مرة ست مرات

38. أي من الأشكال التالية هو الأنسب لملء الفراغ؟

○ ●	○ ○ ●	●
□ □ ■	?	□ ■
▲	△ ▲	△ △ ▲



اختبارات || 2022

سؤال 28

غير محاب عليه بعد

الدرجة من 1

3 عيم هذا السؤال

me

I

a

some

ات || 2022

أي من الوحدات التالية يعتبر من المكونات الأساسية لجهاز الحاسوب؟

- الممسح الضوئي (Scanner)
- قارئ الترميز الخطي (Bar code Reader)
- وحدة المعالجة المركزية (CPU)
- شريط التخزين الممغنط (Tape Drive)

اختبارات || 2022

I work as a teacher and my wife, too

- do
- work
- is
- does

سؤال 26

غير مجاب عليه بعد

الترجمة من 1

٣ عليم هذا السؤال

2022 II

باع عمر سيارة بمبلغ (4800) ريال، فكان ربحه منها (20%) من ثمن شرائها، ما هو ثمن السيارة الأصلي؟

5760 4000 3840 4820 

الوقت المتبقي 16:40

في إحدى البطولات الرياضية لكرة القدم، قام سعود بتسديد 10 ضربات جزاء في 15 مباراة، فأحرز أهدافاً يقدر نصف هذه الضربات، فكم سيكون عدد أهداف سعود لو ازداد عدد هذه المياريات إلى 24 مباراة واستمر معدل الحصول على ضربات الجزاء والتسديد والإحراز ثابتاً لديه؟

- ستة عشر هدفاً
- ثمانية أهداف
- عشرة أهداف
- ستة أهداف

سؤال 21

غير مجاب عليه بعد

الدرجة من 1

3 طم هذا السؤال

الصفحة التالية

رات || 2022

أي نوع من أنواع الذاكرة التالية يحتفظ بالبيانات بشكل دائم؟

- a. ROM (ذاكرة القراءة فقط)
- b. CACHE (ذاكرة الكاش)
- c. RAM (ذاكرة الوصول العشوائي)
- d. CPU (وحدة المعالجة المركزية)



2

بعض

سؤال

ارات || 2022

واحدة من الاجراءات التالية تؤثر سلباً على أداء الحاسوب:

- زيادة سعة الذاكرة (RAM)
- استخدام تناسخ ذات حجم أقل
- تشغيل العديد من البرامج في نفس الوقت
- التقليل من دقة التناسخ المحددة


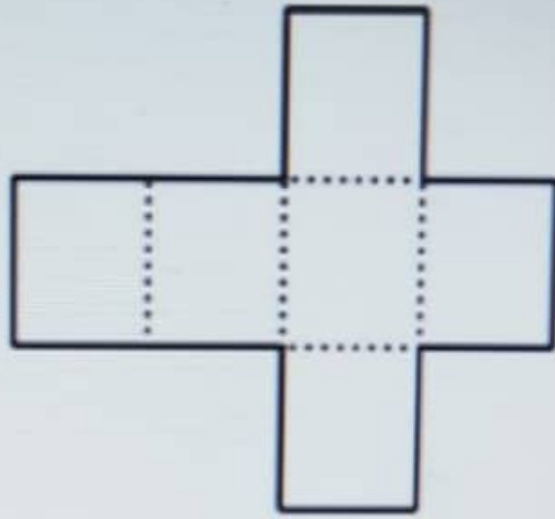
11

عطيه بعد

1

السؤال

37. عند طي الورقة المقابلة على الخطوط المنقوطة فإن الشكل النهائي يكون



24

ب. عليه بعد

1

هذا السؤال

2022 || باارات

This is the best tea I've tasted

already

still

ever

never

37

عليه بعد

10

هذا السؤال



2022

الوقت المتبقي 12

ضبطت ساعة حائط على الساعة السادسة صباحاً وكانت هذه الساعة تتأخر 20 دقيقة كل ساعة، صوف تقير عقارب الساعة عند الساعة السادسة مساءً إلى ؟

- الثالثة بعد الظهر
- الرابعة بعد الظهر
- الخامسة بعد الظهر
- الثانية بعد الظهر

الصفحة التالي

تبارات || 2022

40. عندما تُرجع قلمًا رديئًا وتشتري آخرًا جيدًا تقول

- استبدلت بالقلم الرديء قلمًا جيدًا
- استبدلت بالقلم الجيد قلمًا رديئًا
- استبدلت القلم الرديء بالقلم الجيد
- كل ما ذكر غير صحيح

السؤال 22

جواب عليه بعد

1 من 1

أتم هذا السؤال



2022 ||

يعتبر النسخ الاحتياطي للبيانات مهم :

- لجعل البيانات متوفرة لجميع المستخدمين
- لحماية البيانات عند حدوث عطل في جهاز الحاسوب
- لإرسال البيانات عبر شبكة الإنترنت
- لأنها من الخطوات الرئيسية لإجراء تعديل في البيانات

أخل اختياري

ات || 2022

..... المكتبة العربية بالكتب العمانية

تنخر

ترحر

ترخر

تلخر

2022 |

واحدة من هذه العبارات خاطئة:

- الملفات الإلكترونية يمكن حذفها
- الملفات الإلكترونية يمكن إرسالها بالبريد الإلكتروني
- الملفات الإلكترونية يمكن تخزينها
- الملفات الإلكترونية تستهلك كمية كبيرة من الورق والقرطاسية

تبارات || 2022

How long married?

have you

are you

been

have you been

السؤال 25

يجاب عليه بعد

من 1

تيم هذا السؤال

اختبارات || 2022

يلبغى ضرب الأطفال

تجريم

تحريج

تحريب

تحريد

35 سؤال

مجاب عليه بعد

رجة من 1

عظم هذا السؤال

ات || 2022

I'm afraid I here for your birthday party

have not to be

can't be

am not being

will be not



ات || 2022

منظر الزحام

مربع

مراوع

مزوع

مرتاع

2022 ||

الأخبار الصحيحة

عرفت

عرفت

عرفت

عرفت

كم مرة ينطبق عقربا الساعة على بعضهما في اليوم الواحد؟

22 مرة

12 مرة

6 مرات

24 مرة

أقل اختياري

يقتل الصف الحادي عشر بمنزلة كتوز العلم على (40) طالباً، اشترك (22) طالباً منهم في النشاط الثقافي، في حين اشترك في النشاط الرياضي (15) طالباً، واشترك (7) طالب منهم في النشاطين معاً كم عدد طلاب هذا الصف الذين لم يشتركوا بأي نشاط؟

المطلوب المسألة غير كافية

10 طلاب

3 طلاب

30 طالباً

الصفحة التالية

اختبارات || 2022

المتنبي أشهر الرجال

- شواعر
- شعاريير
- شعراء
- شويصري

سؤال 23

غير مجاب عليه بعد

الدرجة من 1

علم هذا السؤال

11:43
2022/0

prt sc delete home end

2022 ||

علي أطول من حصان، وصالح أقصر من علي ولكنه ليس في طول حصان، أي من العبارات التالية صحيحة؟

- صالح أطول من حصان
- صالح وحصان يتطول واحد
- لا يمكن معرفة من منهما أطول
- حصان أطول من صالح

تبارات || 2022

I think taxi driver

- her job is
- her job is an
- she's
- she's a

السؤال 33

سجابه عليه بعد

من 1

يتم هذا السؤال

صندوق بداخله ثلاث صناديق في كل صندوق منهما ثلاثة صناديق أخرى ما مجموع الصناديق كلها؟

عشرة صناديق

اثنا عشر صندوقاً

أحد عشر صندوقاً

ثلاثة عشر صندوقاً



اضغط هنا لبدء (الاختبار_10:30 ص)

Opened: الخميس، 21 يوليو 2022، 10:30 ص

Closes: الخميس، 21 يوليو 2022، 11:30 ص

المحاولات المسموح بها: 1

الحد الزمني: 45 دقائق

ملخص محاولتك السابقة

مراجعة	Grade /	العلامات	الحالة
	100	40 /	

	35	14	منتهية
--	----	----	--------

مُسَلَّم الخميس، 21

يوليو 2022،

10:56 ص

درجتك النهائية عن هذا الاختبار
هي 35/100

غير مسموح بأي محاولات أخرى

2022 |

فרכת بنجاحك

البهير

المنبهر

المبهر

الباهر



Would you like help?

I

a

me

some

بائع عمر سيارة بمبلغ (4800) ريال، فكان ربحه منها (20%) من ثمن شرائها، ما هو ثمن السيارة الأصلي؟

- 3840
- 4000
- 4820
- 5760

يشتمل الصف الحادي عشر بمدرسة كنوز العلم على (40) طالبا، اشترك (22) طالبا منهم في النشاط الثقافي، في حين اشترك في النشاط الرياضي (15) طالبا، واشترك (7) طلاب منهم في النشاطين معاً كم عدد طلاب هذا الصف الذين لم يشتركوا بأي نشاط؟

- 3 طلاب
- 10 طلاب
- المعلومات المعطاة غير كافية
- 30 طالبا

سؤال 11

غير محاب عليه
نقط
الدرجة من 1
4 نظم هذا
السؤال

الصفحة التالية



89°F

ENG

10:53 ص 11/11/2021

فرحت بنجاحك

الباهر

البهير

المبهر

المنبهر

أخِلْ اِخْتِيَارِي

اختبارات || 2022

How long married?

have you been

been

are you

have you

سؤال 11

غير محال عليه بعد

الدرجة من 1

3 نقاط هذا السؤال

I work as a teacher and my wife, too

does

is

work

do



2022

باع عمر سيارة بمبلغ (4800) ريال، فكان ربحه منها (20%) من ثمن شرائها، ما هو ثمن السيارة الأصلية

3840

4820

5760

4000

اضغط هنا لبدء (الاد



exam_2022_ar: اضغط...



بعد الخمسين تبدأ أعراض

الرجولة

الكهولة

الطفولة

الشيخوخة



1

بعد

ال

اختبارات || 2022

الوقت المتبقي 0:22:23

سؤال 24

غير مجاب عليه بعد

الدرجة من 1

علم هذا السؤال

Did you anywhere interesting last weekend?

going go went was

الصفحة التالية

تنقل الاختبار

AA

elearn.squ.edu.om



اختبارات || 2022

الوقت المتبقي 0:31:51

سؤال 4

غير مجاب عليه بعد

الدرجة من 1

علم هذا السؤال

يعتبر النسخ الاحتياطي للبيانات مهم :

- لأنها من الخطوات الرئيسية لإجراء تعديل في البيانات
- لجعل البيانات متوفرة لجميع المستخدمين
- لحماية البيانات عند حدوث عطل في جهاز الحاسوب
- لإرسال البيانات عبر شبكة الإنترنت

الصفحة التالية



elearn.squ.edu.om

٤٤



اختبارات || 2022

الوقت المتبقي 0:24:42

سؤال 22

غير مجاب عليه بعد

الدرجة من 1

علم هذا السؤال

في إحدى البطولات الرياضية لكرة القدم، قام سعود بتسديد 10 ضربات جزاء في 15 مباراة، فأحرز أهدافاً بقدر نصف هذه الضربات، فكم سيكون عدد أهداف سعود لو ازداد عدد هذه المباريات إلى 24 مباراة واستمر معدل الحصول على ضربات الجزاء والتسديد والإحراز ثابتاً لديه؟

 ستة عشر هدفاً عشرة أهداف ثمانية أهداف ستة أهداف

الصفحة التالية

AA

elearn.squ.edu.om



SQU E-LEARNING SYSTEM (ACADEMIC)

اختبارات || 2022

They go to the cinema

rare

much

tomorrow

seldom

سؤال 32

غير محاب عليه بعد

الدرجة من 1

3 علم هذا السؤال

اختبارات || 2022

What is your home town

like

situated

age

located

سؤال 3

غير مجاب عليه بعد

الدرجة من 1

٣ علم هذا السؤال

om/mod/quiz/attempt.php?attempt



سؤال 11

غير مجاب عليه بعد

الدرجة من 1

علم هذا السؤال

..... المكتبة العربية بالكتب العمانية

تذخر

تذحر

تذخر

تدخر

اختبارات || 2022

الوقت المتبقي 0:22:53

سؤال 23

غير مجاب عليه بعد

الدرجة من 1

علم هذا السؤال

What is your home town ?

like located age situated

الصفحة التالية

تنقل الاختبار

AA

elearn.squ.edu.om



اختبارات || 2022

على أطول من حسان، وصالح أقصر من علي ولكنه ليس في طول حسان. أي من العبارات التالية صحيحة؟

- لا يمكن معرفة من منهما أطول
- صالح أطول من حسان
- صالح وحسان بطول واحد
- حسان أطول من صالح
- أخل اختياري

سؤال 9

1 من 1

عَلِّم غيا السؤال

الوقت المتبقي 0:35:10

سؤال 10

غير مجاب عليه بعد

الدرجة من 1

٣ علم هذا السؤال

صندوق بداخله ثلاث صناديق في كل صندوق منهما ثلاثة صناديق أخرى ما مجموع الصناديق كلها ؟

اثنا عشر صندوقاً

عشرة صناديق

ثلاثة عشر صندوقاً

أحد عشر صندوقاً

الآن

غلا الروح
اختبار الفرز الالكتروني
احيده الكاش



اختبارات || 2022

الوقت المتبقي 0:35:28

سؤال 7

غير مجاب عليه بعد

الدرجة من 1

علم هذا السؤال

أي من الوحدات التالية يعتبر من المكونات الأساسية لجهاز الحاسوب ؟

- قارئ الترميز الخطي (Bar code Reader)
- شريط التخزين الممغنط (Tape Drive)
- وحدة المعالجة المركزية (CPU)
- الماسح الضوئي (Scanner)

الصفحة التالية



elearn.squ.edu.om

٤٤



منظر الزحام

مروع

مرعّاع

مرعب

مراوع

Which of the following is a way to create and modify tables using SQL Server?

- Use the graphical facilities of SQL Server Enterprise Manager only
- Neither of the two methods above will work
- Both of the two methods above will work
- Write SQL code using either CREATE or ALTER SQL statements only

Activate Windows
Go to Settings to activate Windows.

اختبارات || 2022

الوقت المتبقي 0:20:44

سؤال 28

غير مجاب عليه بعد

الدرجة من 1

علم هذا السؤال

صندوق بداخله ثلاث صناديق في كل صندوق منهما ثلاثة صناديق أخرى ما مجموع الصناديق كلها ؟

- ثلاثة عشر صندوقاً
- أحد عشر صندوقاً
- عشرة صناديق
- اثنا عشر صندوقاً

الصفحة التالية

تنقل الاختبار

AA

elearn.squ.edu.om



SQU E-LEARNING SYSTEM (ACADEMIC)

اختبارات || 2022

يشتمل الصف الحادي عشر بمدرسة كنوز العلم على (40) طالباً، اتركه (22) طالباً منهم في النشاط التفاعلي، في حين (7) طلاب منهم في النشاطين معاً، كم عدد طلاب هذا الصف الذين لم يشتركوا بأي نشاط؟

المعلومات المعطاة غير كافية

30 طالباً

10 طلاب

3 طلاب

سؤال 23

غير معالج عليه بعد

الدرجة من 1

3 عظم هذا السؤال

اختبارات || 2022

الوقت المتبقي 0:19:51

سؤال 28

غير مجاب عليه بعد

الدرجة من 1

علم هذا السؤال

A program that neither replicates or copies itself, but does damage or compromises the security of the computer. Which 'Computer Virus' it is?

Trojan Joke Program Hoax Worm

الصفحة التالية

تنقل الاختبار



elearn.squ.edu.om

٤٤



اختبارات || 2022

الوقت المتبقي 0:27:43

سؤال 11

غير مجاب عليه بعد

الدرجة من 1

علم هذا السؤال

عمر سعاد قبل 13 سنة يساوي (9) أمثال عمر ابنها الذي يصبح
عمره بعد سنتين 6 سنوات . كم عمر سعاد الآن ؟

 40 سنة 49 سنة 51 سنة 31 سنة

الصفحة التالية

تنقل الاختبار



elearn.squ.edu.om

٤٤



Which one of the following is a characteristic of broadband?

.It has a dial up connection

.High speed

.Cost can vary from day to day

.Completely safe from intruders

الوقت المتبقى 0:31:29

اشترى أحمد 3 كتب و آلة حاسبة بقيمة 17 ريال ، واشترى محمد 3 كتب و حقيبة بقيمة 13 ريال ، فإذا كان ثمن الكتاب الواحد 3 ريال ، فما النسبة بين ثمن الآلة الحاسبة إلى ثمن الحقيبة ؟

2 إلى 3

1 إلى 2

3 إلى 2

2 إلى 1

Activate Windows

Go to Settings to activate Windows

If a new hard drive is installed in an old computer and the system does not register the total capacity of the hard drive, what is the most likely cause?

- The hard drive is malfunctioning
- The hard drive is not read correctly by the BIOS
- The computer motherboard is damaged
- The hard drive is not compatible with the computer

اختبارات || 2022

الوقت المتبقي 0:32:19

سؤال 9

غير مجاب عليه بعد

الدرجة من 1

علم هذا السؤال

Another word for 'Graphics for a word processor'?

Highlight

Clip art

Execute

Peripheral

الصفحة التالية

تنقل الاختبار

ت || 2022

'MPG' extension refers usually to what kind of file?

- Animation/movie file
- MS Office document
- WordPerfect Document file
- Image file

طليه بعد
1
هذا السؤال

الوقت

What do you call a computer on a network that requests files from another computer?

- A client
- A router
- A host
- A web server



ENG

09:09

ص ٢٢/٧/٢١



تبارات || 2022

تقبل سنة أشخاص في مكان ما ، فإننا صافح كل شخص منهم الآخر مرة واحدة فقط بحكم عدد المسافعات التي

15 مرة

ست مرات

18 مرة

12 مرة

أقل اختياري

13

ير يجب عليه بعد

الرجعة من 1

٣ علم هذا السؤال

Activate Windows

Go to Settings to activate Windows.



ص 09:18
٢٠٢٢/٠٧/٢١



What does AC and DC stand for in the electrical field?

Atlantic City and District of Columbia

Alternating Current and Direct Current

Average Current and Discharged Capacitor

A Rock Band from Australia

اختبارات || 2022

الوقت المتبقي 0:14:31

سؤال 37

غير مجاب عليه بعد

الدرجة من 1

علم هذا السؤال

Which one of the following is an example of an operating system?

.Netscape

.Windows

.PowerPoint

.iTunes

الصفحة التالية

تنقل الاختبار



elearn.squ.edu.om

عع



Which one of the following describes a computer's operating system?

Software that can retrieve information from a .database

Software that controls the allocation and .usage of hardware

Hardware that can record and send images .across the Internet

Hardware that can scan and convert .photographs into digital files

اختبارات || 2022

الوقت المتبقي 0:12:43

سؤال 40

غير مجاب عليه بعد

الدرجة من 1

علم هذا السؤال

What do we call a collection of two or more computers that are located within a limited distance of each other and that are connected to each other directly or indirectly?

Local Area Network Wide Area Network Internet Intranet

إنهاء المحاولة ...

تنقل الاختبار



elearn.squ.edu.om

٤٤



الوقت المتبقي

A program that neither replicates or copies itself, but does damage or compromises the security of the computer. Which 'Computer Virus' it is?

- Trojan
- Hoax
- Joke Program
- Worm

الدرجة من 1
3 على هذا السؤال

قبل الاختيار

Which of the following is correct?

- Windows 8 and Ubuntu 8.04 are browsers
- Windows 8 is a browser and Ubuntu 8.04 is operating system
- Windows 8 and Ubuntu 8.04 are operating system
- Windows 8 is operating system and Ubuntu 8.04 is a browser

2022 ||

Another word for 'Graphics for a word processor'?

Highlight

Clip art

Peripheral

Execute

به بعد
1
هذا السؤال

اختبارات || 2022

الوقت المتبقي 0:23:17

سؤال 24

غير مجاب عليه بعد

الدرجة من 1

علم هذا السؤال

ضبطت ساعة حائط على الساعة السادسة صباحاً وكانت هذه الساعة تتأخر 20 دقيقة كل ساعة، فسوف تشير عقارب الساعة عند الساعة السادسة مساءً إلى ؟

- الخامسة بعد الظهر
- الثانية بعد الظهر
- الرابعة بعد الظهر
- الثالثة بعد الظهر

الصفحة التالية

تنقل الاختبار



elearn.squ.edu.om

٤٤



الوقت المتبقي 0:35:15

لدى عامر مزرعة أبقار، تعود أن يبيع منها (200) بقرة شهرياً، وأظروف ما يباع عامر في بداية هذا الشهر (30) بقرة فقط، كم بقرة يظلزم لإجها حتى نهاية الشهر حتى يصبح عدد البعيجات 75% من البعيجات المعتاد؟

- 150 بقرة
- 170 بقرة
- 120 بقرة
- 40 بقرة

1.1
مجموع ما يسأل

Activate Windows
Go to Settings to activate Windows

If a new hard drive is installed in an old computer and the system does not register the total capacity of the hard drive, what is the most likely cause?

The hard drive is not compatible with the computer

The hard drive is not read correctly by the BIOS

The computer motherboard is damaged

The hard drive is malfunctioning

الوقت المتبقي

سؤال 2

غير محاب عليه بعد

الدرجة من 1

٣ علم هذا السؤال



الوقت المتبقي 0:16:18

سؤال 34

غير مجاب عليه بعد

الدرجة من 1

علم هذا السؤال

'MPG' extension refers usually to what kind of file?

WordPerfect Document file

Animation/movie file

Image file

MS Office document

الصفحة التالية

تنقل الاختبار



ضبطت ساعة حائط على الساعة السادسة صباحاً وكانت هذه الساعة تتأخر 20 دقيقة كل ساعة، فسوف تشير عقارب الساعة عند الساعة السادسة مساءً إلى ؟



الثانية بعد الظهر

الرابعة بعد الظهر

الخامسة بعد الظهر

الثالثة بعد الظهر

What do we call a collection of two or more computers that are located within a limited distance of each other and that are connected to each other directly or indirectly?



Internet

Wide Area Network

Local Area Network

Intranet

What's a web browser?

A computer that stores WWW files

A person who likes to look at websites

A software program that allows you to access sites on the World Wide Web

A kind of spider

A program that neither replicates or copies itself, but does damage or compromises the security of the computer. Which 'Computer Virus' it is?

Trojan

Worm

Hoax

Joke Program

Which one of the following measures the speed of the CPU?

.Bits per second (Bps)

.Megabytes (MB)

.Gigahertz (GHz)

.Gigabytes (GB)

Computers calculate numbers in what mode?

Decimal

None of the above

Octal

Binary

The most common format for a home video recorder is VHS. VHS stands for:

Very high speed

Voltage house standard

Video Home System

Video horizontal standard

What does a VLAN do?

- Provides multiple collision domains on one switch port
- Provides multiple broadcast domains within a single collision domain
- Acts as the fastest port to all servers
- Breaks up broadcast domains in a layer 2 switch internetwork

Which of the following basic protocols in networks?

TCP/IP

POP

SSL

FTP

تقابل ستة أشخاص في مكان ما ، فإذا صافح كل شخص منهم الآخر مرة واحدة فقط ، فكم عدد المصافحات التي تمت ؟

18 مرة

15 مرة

12 مرة

ست مرات

Which one of the following describes a computer's operating system?

- .Software that can retrieve information from a database
- .Hardware that can scan and convert photographs into digital files
- .Hardware that can record and send images across the Internet
- .Software that controls the allocation and usage of hardware

Which of the following is an example of a standard IP access list?

access-list 110 permit host 1.1.1.1

access-list 1 permit 172.16.10.1 255.255.0.0

access-list 1 deny 172.16.10.1 0.0.0.0

access-list standard 1.1.1.1

علي أطول من حسان، وصالح أقصر من علي ولكنه ليس في طول حسان. أي من العبارات التالية صحيحة؟

صالِح أطول من حسان

لا يمكن معرفة من منهما أطول

حسان أطول من صالِح

صالِح و حسان بطول واحد

Another word for 'Graphics for a word processor'?

Peripheral

Execute

Highlight

Clip art

Which of the following is correct?

Windows 8 is a browser and Ubuntu 8.04 is operating system

Windows 8 is operating system and Ubuntu 8.04 is a browser

Windows 8 and Ubuntu 8.04 are operating system

Windows 8 and Ubuntu 8.04 are browsers

اشترى أحمد 3 كتب و آلة حاسبة بقيمة 17 ريال ، واشترى محمد 3 كتب و حقيبة بقيمة 13 ريال ، فإذا كان ثمن الكتاب الواحد 3 ريال ، فما النسبة بين ثمن الآلة الحاسبة إلى ثمن الحقيبة ؟

○ 3 إلى 2

○ 1 إلى 2

○ 2 إلى 1

○ 2 إلى 3

اشترى أحمد 3 كتب وآلة حاسبة بقيمة 17 ريال ، واشترى محمد 3 كتب و حقيبة بقيمة 13 ريال ، فإذا كان ثمن الكتاب الواحد 3 ريال ، فما النسبة بين ثمن الآلة الحاسبة إلى ثمن الحقيبة ؟

3 إلى 2

1 إلى 2

2 إلى 1

2 إلى 3

بمناسبة العيد الوطني اشترى علي عشرة أعلام عمانية بسعر ريالين للعلم الواحد، وخصم له 5% من السعر الإجمالي للأعلام، فكم ريالاً دفع قيمة الأعلام؟

19 ريال

20 ريال

21 ريال

19.5 ريال

Which one of the following is a characteristic of broadband?

- .It has a dial up connection
- .Cost can vary from day to day
- .High speed
- .Completely safe from intruders

Which of the following word processors came first?



MS Word

WordPerfect

Lotus Notes

WordStar

عمر سعاد قبل 13 سنة يساوي (9) أمثال عمر ابنها الذي يصبح عمره بعد سنتين 6 سنوات . كم عمر سعاد الآن ؟

○ 40 سنة

○ 31 سنة

○ 51 سنة

○ 49 سنة

WAN stands for:

Wide Artificial Network

World Area Network

Wide Area Network

Wide Access Network

'MPG' extension refers usually to what kind of file?

MS Office document

WordPerfect Document file

Image file

Animation/movie file

قام صاحب متجر بإخراج 2% مما مر عليه من صندوق فأكهة بسبب تلفها فإذا كان عدد ما أخرجته ستة صناديق . فكم صندوقاً مر عليه ؟

120 صندوق

600 صندوق

30 صندوق

300 صندوق

What is the result If (A=5) and (B=10), do Print A+B IF (B < A) ?

15

No thing

5

10

Which one of the following is an example of an operating system?

.Windows

.PowerPoint

.iTunes

.Netscape

Which of the following is a way to create and modify tables using SQL Server?

Use the graphical facilities of SQL Server Enterprise Manager only

Write SQL code using either CREATE or ALTER SQL statements only

Both of the two methods above will work

Neither of the two methods above will work

بمناسبة عيد الأضحى المبارك اشترى محمد حلوى بقيمة 50 ريال عماني، وأخبره التاجر أن قيمة الوعاء الفخاري أقل عن قيمة الحلوى بمبلغ 28 ريال، فما هو المبلغ الذي سيدفعه محمد لو رغب في شراء الحلوى في وعاء فخاري؟

72 ريال

12 ريال

50 ريال

88 ريال

Which of the following is the valid host range for the subnet on which the IP address 192.168.168.188 255.255.255.192 resides?

192.168.168.128-192

192.168.168.129-190

192.168.168.128-190

192.168.168.129-191

سؤال 7

غير مجاب عليه بعد

الدرجة من 1

3 علم هذا السؤال

فرحت بنجاحك

المبهر

المنهه

الباهر

البهه

أي نوع من أنواع الذاكرة التالية يحتفظ بالبيانات بشكل دائم؟

a. ROM (ذاكرة القراءة فقط)

b. RAM (ذاكرة الوصول العشوائي)

c. CPU (وحدة المعالجة المركزية)

d. CACHE (ذاكرة الكاش)

بعد الخمسين تبدأ أعراض

السبخوخة

الرجولة

الطفولة

الكهولة

بمناسبة عيد الاضحى المبارك اشترى محمد حلوى بقيمة 50 ريال عماني، وأخبره التاجر أن قيمة الوعاء الفخاري أقل عن قيمة الحلوى بمبلغ 28 ريال، فما هو المبلغ الذي سيدفعه محمد لو رغب في شراء الحلوى في وعاء فخاري؟

- 72 ريال
- 12 ريال
- 88 ريال
- 50 ريال

سؤال 34

غير محاب عليه بعد

الدرجة من 1

3 علم هذا السؤال

الصفحة التالية

تنقل الاختبار



اختبارات || 2022

الوقت المتبقي 0:29:49

سؤال 12

غير مجاب عليه بعد

الدرجة من 1

علم هذا السؤال

I'm afraid I here for your birthday party

have not to be

can't be

am not being

will be not

الصفحة التالية

تنقل الاختبار

He hasn't played since he the accident

has

had

had had

has had



2022 ||

منظر الزحام.....

مربع

مروع

مراوع

مرتاع



40. عندما تُرجع قلمًا رديئًا وتشتري آخرًا جيدًا تقول

○ استبدلت بالقلم الرديء قلمًا جيدًا

○ استبدلت بالقلم الجيد قلمًا رديئًا





استبدلت القلم الرديء بالقلم الجيد

○ كل ما ذكر غير صحيح

أخِلْ اختياري

38. أي من الأشكال التالية هو الأنسب لملء الفراغ؟

○ ●	○ ○ ● ●	●
□ □ ■	?	□ ■
▲	△ ▲	△ △ ▲

- 
- 
- 
- 

سؤال 4

غير مجاب عليه بعد

الدرجة من 1

3 طم هنا السؤال

علي أطول من حسان، وصالح أقصر من علي ولكنه ليس في طول حسان. أي من العبارات التالية صحيحة؟

- صالح وحسان بطول واحد
- حسان أطول من صالح
- صالح أطول من حسان
- لا يمكن معرفة من منهما أطول

اختبارات || 2022

الوقت المتبقي 0:28:59

سؤال 18

غير مجاب عليه بعد

الدرجة من 1

علم هذا السؤال

بمناسبة عيد الأضحى المبارك اشترى محمد حلوى بقيمة 50 ريال عماني، وأخبره التاجر أن قيمة الوعاء الفخاري أقل عن قيمة الحلوى بمبلغ 38 ريال، فما هو المبلغ الذي سيدفعه محمد لو رغب في شراء الحلوى في وعاء فخاري؟

 62 ريال 12 ريال 88 ريال 50 ريال

الصفحة التالية

تنقل الاختبار

AA

elearn.squ.edu.om



تقابل ستة أشخاص في مكان ما ، فإذا صافح كل شخص منهم الآخر مرة واحدة فقط ، فكم عدد المصافحات التي تمت ؟


- 18 مرة
- ست مرات
- 12 مرة
- 15 مرة





أجل اختياري

سؤال 6

غير صحيح عليه بعد
الدرجة من 1
تم علم هذا السؤال

39. ما هو الشكل المكمل للسلسلة؟

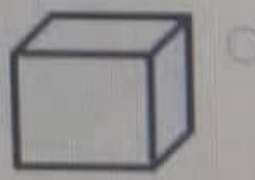



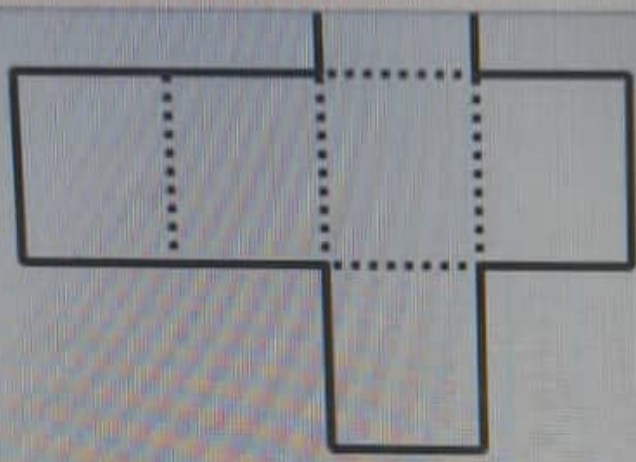


- 
- 
- 
- 



SQU E-LEARNING SYSTEM (ACADEMIC)

3 طم هنا السؤال



اختبارات 2022

سؤال 1
غير محبب عليه جيد
الدرجة من 1
4 كم هذا السؤال

الوقت المتبقي 37:33

الوقت المتبقي 37:33
الوقت المتبقي 37:33

الصفحة التالية

19408351

16 15 14 13 12 11 10
5 4 3 2 1
26 25 24 23 22 21 20 19
34 33 32 31 30 29 28
40 39 38 37

TOSHIBA

يشتمل الصف الحادي عشر بمدرسة كهنز النعام على (40) طالباً، اشترك (22) طالباً منهم في النشاط الرياضي (15) طالباً، واشترك (7) طلاب منهم في النشاطين معاً، كم عدد طلاب هذا الصف الذين لم يشتركوا بأي نشاط؟

10 طلاب

30 طالباً

المطلوب من الصفحة غير كافية

3 طلاب

ت || 2022

تقابل سنة أشخاص في مكان ما ، فإذا صافح كل شخص منهم الآخر مرة واحدة فقط ، فكم عدد المصافحات التي

- تساوي
- ست مرات
 - 18 مرة
 - 15 مرة
 - 12 مرة

اختبارات 2022

الوقت المتبقي 0:42:05

سؤال 3

يشتمل الصف الحادي عشر بعنصرية كقول المعلم علي (40) طالباً، اشترك (22) طالباً منهم في التمثيل الرياضي، اشترك (15) طالباً، واشترك (7) طلاب منهم في التمثيل معاً. كم عدد طلاب هذا الصف الذين لم يشتركوا بأي تمثيل؟

- 30 طالباً
- المطلوبت المسألة غير كافية
- 10 طلاب
- 3 طلاب

3 سؤال
ير سميت طه
الرياضي 1
م كة حاصرون

تسجيل النتيجة

422

عدد

1

10

19

28

37

8

اختبارات || 2022

واحدة من هذه العبارات خاطئة:

- الملفات الإلكترونية يمكن إرسالها بالبريد الإلكتروني
- الملفات الإلكترونية يمكن حذفها
- الملفات الإلكترونية تسببها كمية كبيرة من الورق والفرطانية
- الملفات الإلكترونية يمكن تخزينها

سؤال 18

غير محاب عليه بعد

الترجمة من 1

3 عليم هذا السؤال

اختبارات || 2022

الوقت المتبقي 18

سؤال 16

غير مجاب عليه بعد

الدرجة من 1

علم هذا السؤال

فرحت بنجاحك

البهير

الباهر

المبهر

المنبهر

اختبارات || 2022

الوقت المتبقي 38:58

سؤال 7

غير مجاب عليه بعد

الدرجة من 1

٣ علم هذا السؤال

ينبغي ضرب الأطفال

تجريد

تجريب

تجريم

تجريح

الصفحة التالية

تنقل الاختبار



elearn.squ.edu.om

٤٤



منظر الراحام

مرتاع

مراوع

مروع

مريج

اختبارات || 2022

الوقت المتبقي 0:08:45

ضبطت ساعة حائط على الساعة السادسة صباحاً وكانت هذه الساعة تتأخر 20 دقيقة كل ساعة، فسوف تشير عقارب الساعة عند الساعة السادسة مساءً إلى ؟

- الخامسة بعد الظهر
- الرابعة بعد الظهر
- الثانية بعد الظهر
- الثالثة بعد الظهر

سؤال 37

غير محاب عليه بعد

الدرجة من 1

3 علم هذا السؤال

الصفحة التالية

تنقل الاختبار



ضحى ناصر شامس النعمانية

19377445

20	19	18	17	16	15	14	13	12	11	10	9	8	7	6	5	4	3	2	1
40	39	38	37	36	35	34	33	32	31	30	29	28	27	26	25	24	23	22	21

إنهاء المحاولة ...

اختبارات 2022

الوقت المتبقي 0:04:12

Which one of the following describes a firewall ?

- .System maintain a file that associates a password with each authorized user
- A program that replicates itself across the network (usually riding on email messages or attached documents
- Isolates organization's internal net from larger Internet, allowing some packets to pass, .blocking others
- Gateway sits between user on inside and server on outside. Instead of talking directly, .user and server talk through proxy

اختر الاختباري

سؤال 39

غير محاب عليه بعد

الدرجة من 1

3 علم هذا السؤال

Which one of the following describes a firewall ?

- .System maintain a file that associates a password with each authorized user
- A program that replicates itself across the network (usually riding on email messages or attached documents
- Isolates organization's internal net from larger Internet, allowing some packets to pass, .blocking others
- Gateway sits between user on inside and server on outside. Instead of talking directly, .user and server talk through proxy

39 سؤال

غير صحيح عليه بعد

الدرجة من 1

3 علم هذا السؤال

الصفحة التالية

تنقل الاختبار

بارات || 2022

الوقت المتبقي 0:09:22

اشترى أحمد 3 كتب وألة حاسبة بقيمة 17 ريال ، واشترى محمد 3 كتب و حقيبة بقيمة 13 ريال ، فإذا كان ثمن الكتاب الواحد 3 ريال ، فما النسبة بين ثمن الآلة الحاسبة إلى ثمن الحقيبة ؟

1 إلى 2

2 إلى 1

3 إلى 2

2 إلى 3

36

عليه بعد

السؤال

الصفحة التالية

الاختبار

ناصر شامس النعمانية

1937744

20	19	18	17	16	15	14	13	12	11	10	9	8	7	6	5	4	3	2
40	39	38	37	36	35	34	33	32	31	30	29	28	27	26	25	24	23	22

المحاولة ...

اختبارات 2022

What is the right function to find the total number in M.S Excel in cells B2:B4 ?

- (SUM(B2:B4
- (SUM(B2:B4
- (SUM(B2-B4
- SUM(B2:B4)/3

سؤال 38
غير محاب عليه بعد
الدرجة من 1
علم هذا السؤال



AA

elearn.squ.edu.om



حساب Microsoft | ...

البريد - Dhuha Al-Na...

exam_2022_ar: ...

البدا (الاخذ...)

(SQU E-LEARNING SYSTEM (ACA

بانات || 2022

الوقت المتبقي 0:12:50

بمناسبة عيد الأضحى المبارك اشترى محمد حلوى بقيمة 50 ريال عماني، وأخبره التاجر أن قيمة الوعاء الفخاري أقل عن قيمة الحلوى بمبلغ 28 ريال، فما هو المبلغ الذي سيدفعه محمد لو رغب في شراء الحلوى في وعاء فخاري؟

72 ريال 12 ريال 88 ريال 50 ريال

الصفحة التالية

شامس النعمانية

1937

20	19	18	17	16	15	14	13	12	11	10	9	8	7	6	5	4	3
40	39	38	37	36	35	34	33	32	31	30	29	28	27	26	25	24	23

اختبارات || 2022

الوقت المتبقي 0:12:41

بمناسبة عيد الأضحى المبارك اشترى محمد حلوى بقيمة 50 ريال عماني، وأخبره التاجر أن قيمة الوعاء الفخاري أقل من قيمة الحلوى بمبلغ 28 ريال، فما هو المبلغ الذي سيدفعه محمد لو رغب في شراء الحلوى في وعاء فخاري؟

- 72 ريال
- 12 ريال
- 88 ريال
- 50 ريال

سؤال 34

غير محاب عليه بعد

الدرجة من 1

3 علم هذا السؤال

الصفحة التالية

تفعل الاختبار



ضحى ناصر شامس النعمانية

19377445


20	19	18	17	16	15	14	13	12	11	10	9	8	7	6	5	4	3	2	1
40	39	38	37	36	35	34	33	32	31	30	29	28	27	26	25	24	23	22	21

إنهاء المحاولة ...

2022 ||

Which one of the following describes a computer's operating system?

- .Hardware that can record and send images across the Internet
- .Software that controls the allocation and usage of hardware
- .Software that can retrieve information from a database
- .Hardware that can scan and convert photographs into digital files



امتحانات || 2022

الوقت

What does a VLAN do?

- Provides multiple broadcast domains within a single collision domain
- Provides multiple collision domains on one switch port
- Breaks up broadcast domains in a layer 2 switch internetwork
- Acts as the fastest port to all servers

الاص

بار

مر شامس النعمانية

19377

18	17	16	15	14	13	12	11	10	9	8	7	6	5	4	3	2
38	37	36	35	34	33	32	31	30	29	28	27	26	25	24	23	22

...أولة

اختبارات 2022

الوقت المتبقي 0:06:49

What is the right function to find the total number in M.S Excel in cells B2:B4 ?

- (SUM(B2:B4
- (SUM(B2:B4
- (SUM(B2-B4
- SUM(B2:B4)/3

سؤال 38

غير محاب عليه بعد

الدرجة من 1

علم هذا السؤال



AA

elearn.squ.edu.om



حساب soft

البريد - Dhuha Al-Na...

exam_2022_ar: ...

بدء (الاخذ...)

(SQU E-LEARNING SYSTEM (AC

امارات || 2022

الوقت

What does a VLAN do?

- Provides multiple broadcast domains within a single collision domain
- Provides multiple collision domains on one switch port
- Breaks up broadcast domains in a layer 2 switch internetwork
- Acts as the fastest port to all servers

3.

بعد

سؤال

الص

تجار

سر شامس النعمانية

19377

9	18	17	16	15	14	13	12	11	10	9	8	7	6	5	4	3	2
9	38	37	36	35	34	33	32	31	30	29	28	27	26	25	24	23	2

ولة ...



AA

elearn.squ.edu.om



حساب Microsoft | ال...

البريد - Dhuha Al-Na...

exam_2022_ar: ...



(SQU E-LEARNING SYS

2022 || ن

الوقت المتبقي 0:22:14

قام صاحب متجر بإخراج 2% مما مر عليه من صناديق فاكهة بسبب تلفها فإذا كان عدد ما أخرجته ستة صناديق . فكم صندوقاً مر عليه؟


 300 صندوق 30 صندوق 120 صندوق 600 صندوق

الصفحة التالية

شامس النعمانية

1937

20	19	18	17	16	15	14	13	12	11	10	9	8	7	6	5	4	3
40	39	38	37	36	35	34	33	32	31	30	29	28	27	26	25	24	23



AA

elearn.squ.edu.om



حساب Microsoft | ...

البريد - Dhuha Al-Na...

exam_2022_ar: ...



(SQU E-LEARNING SYST

ت || 2022

الوقت المتبقي 53

What do you call a computer on a network that requests files from another computer?

- A host
- A router
- A client
- A web server

الصفحة

النعمانية

10

19	18	17	16	15	14	13	12	11	10	9	8	7	6	5	4
9	38	37	36	35	34	33	32	31	30	29	28	27	26	25	24

2022 ||

الوقت المتبقي 0:20:13

قام صاحب متجر بإخراج 2% مما مر عليه من صناديق فاكهة بسبب تلفها فإذا كان عدد ما أخرجته ستة صناديق . فكم صندوقاً مر عليه؟

300 صندوق 30 صندوق 120 صندوق 600 صندوق

الصفحة التال

مس النعمانية

193

20	19	18	17	16	15	14	13	12	11	10	9	8	7	6	5	4	3
10	39	38	37	36	35	34	33	32	31	30	29	28	27	26	25	24	23



2022 ||


الوقت المتبقي 6:04

What do we call a collection of two or more computers that are located within a limited distance of each other and that are connected to each other directly or indirectly?

- Internet
- Intranet
- Local Area Network
- Wide Area Network

الصفحة الت

عانية





2022 ||

الوقت المتبقي 18:02


If a new hard drive is installed in an old computer and the system does not register the total capacity of the hard drive, what is the most likely cause?

- The hard drive is malfunctioning
- The hard drive is not read correctly by the BIOS
- The hard drive is not compatible with the computer
- The computer motherboard is damaged

الصفحة التالي

النعمانية

19



ت || 2022

تقابل ستة أشخاص في مكان ما ، فإذا صافح كل شخص منهم الآخر مرة واحدة فقط ، فكم عدد المصافحات التي تمت ؟

18 مرة

15 مرة

12 مرة

ست مرات



تقابل ستة أشخاص في مكان ما ، فإذا صافح كل شخص منهم الآخر مرة واحدة فقط ، فكم عدد المصافحات التي تمت ؟

- ست مرات
- 18 مرة
- 12 مرة
- 15 مرة

2022 ||

علي أطول من حسان، وصالح أقصر من علي ولكنه ليس في طول حسان. أي من العبارات التالية صحيحة؟

صالح أطول من حسان

لا يمكن معرفة من منهما أطول

صالح وحسان بطول واحد

حسان أطول من صالح

2022 | 1

الوقت المتبقي: 0:17:02

أشى صامير مزرعة البقر، تعود أن يتبع منها (200) بقرة شهرياً، ولظروف ما يباع صامير في بداية هذا الشهر (30) بقرة فقط كم يتم قتلها مبيعاً حتى نهاية الشهر حتى يصبح عدد البقرات 75% من البقرات المعتادة؟

- 170 بقرة
- 40 بقرة
- 150 بقرة
- 120 بقرة

2022

What does AC and DC stand for in the electrical field?

- Atlantic City and District of Columbia
- Alternating Current and Direct Current
- A Rock Band from Australia
- Average Current and Discharged Capacitor

Which one of the following measures the speed of the CPU?

- .Bits per second (Bps)
- .Megabytes (MB)
- .Gigahertz (GHz)
- .Gigabytes (GB)



90°F Sunny



ENG

امارات || 2022

Computers calculate numbers in what mode?

- Octal
- None of the above
- Decimal
- Binary

38

ب عليه بعد

ن 1

هذا السؤال

Which of the following is an example of a standard IP access list?

- `access-list standard 1.1.1.1`
- `access-list 1 deny 172.16.10.1 0.0.0.0`
- `access-list 1 permit 172.16.10.1 255.255.0.0`
- `access-list 110 permit host 1.1.1.1`

Which one of the following is a characteristic of broadband?

- .High speed
- .Cost can vary from day to day
- .Completely safe from intruders
- .It has a dial up connection

Which of the following basic protocols in networks?

TCP/IP

SSL

FTP

POP

اختبارات || 2022

Which of the following is a way to create and modify tables using SQL Server?

- Neither of the two methods above will work
- Both of the two methods above will work
- Use the graphical facilities of SQL Server Enterprise Manager only
- Write SQL code using either CREATE or ALTER SQL statements only

سؤال 13

غير مجاب عليه بعد

الدرجة من 1

3 على هذا السؤال

2022 || امتحانات

What is not always necessary for accessing the Web?

- A Web browser
- A computer
- A modem
- A connection to an Internet Access Provider

30

ساعات

من 1

هذا السؤال

2022 | ارات

يبارس ناصر و سعيد و أحمد كره القوم ، و يبارس ناصر ، بينما يبارس سعيد و خلفان القوم . من منهم يبارس كره القوم و القوم ؟

- خلفان
- أحمد
- ناصر
- سعيد

2.

سؤال

امرات || 2022

عمر سعاد قبل 13 سنة يساوي (9) أمثال عمر ابنها الذي يصبح عمره بعد سنتين 6 سنوات . كم عمر سعاد الآن ؟

51 سنة

40 سنة

49 سنة

31 سنة

36

نظيره بعد

سؤال

تبارات || 2022

Another word for 'Graphics for a word processor'?



- Execute
- Peripheral
- Highlight
- Clip art

السؤال 31

الجواب عليه بعد

من 1

تكم هذا السؤال

2022 ||

بمناسبة العيد الوطني اشترى علي عشرة اعلام صائبة بسعر ريالين للعلم الواحد، وخصم له 5% من السعر الإجمالي للأعلام، فكم ريالاً دفع قيمة الأعلام؟

19.5 ريال

20 ريال

21 ريال

19 ريال

أخلى اختيارى



2022 |

قام صاحب متجر بإخراج 2% مما مر عليه من صناديق فأكهة بسبب تلفها فإذا كان عدد ما أخرجته ستة صناديق . فكم صندوقاً مر عليه؟

30 صندوق

600 صندوق

300 صندوق

120 صندوق



ENG
INTL



ت || 2022

What is the right function to find the total number in M.S Excel in cells B2:B4?

SUM(B2:B4)/3

SUM(B2-B4)

SUM(B2;B4)

SUM(B2:B4)




عمر سعد قبل 13 سنة يساوي (9) أمثال عمر ابنها الذي يصبح عمره بعد سنتين 6 سنوات . كم عمر سعد الآن ؟

31 سنة

40 سنة

49 سنة

51 سنة



ات 2022

ضبطت ساعة حائط على الساعة السادسة صباحاً وكانت هذه الساعة تتأخر 20 دقيقة كل ساعة، فسوف تشير عقارب الساعة عند الساعة السادسة مساءً إلى

- الرابعة بعد الظهر
- الثالثة بعد الظهر
- الثانية بعد الظهر
- الخامسة بعد الظهر

1

بعد

وال

تعالى ستة أشخاص فى مكالمة ما ، فإذا صالغ كل شخص منهم الآخر مرة واحدة فقط بحكم عدد المصافحات التي تمت ؟

15 مرة

18 مرة

ست مرات

12 مرة



الوقت المتبقي: 14:47

If a new hard drive is installed in an old computer and the system does not register the total capacity of the hard drive, what is the most likely cause?

The hard drive is not compatible with the computer

The hard drive is not read correctly by the BIOS

The hard drive is malfunctioning

The computer motherboard is damaged

تسليم الإجابة

Which one of the following is a characteristic of broadband?

- High speed
- .Cost can vary from day to day
- .Completely safe from intruders
- .It has a dial up connection

عمر سعاد قبل 13 سنة يساوي (9) أمثال عمر ابنها الذي يصبح عمره بعد سنتين 6 سنوات . كم عمر سعاد الآن ؟

31 سنة

40 سنة

49 سنة

51 سنة

2022 || ك

Another word for 'Graphics for a word processor'?

Peripheral

Highlight

Clip art

Execute

أحد الخيارات هي

ت || 2022

Computers calculate numbers in what mode?



Octal

None of the above

Decimal

Binary



اختبارات || 2022

الوقت المتبقي 0:35:23

اشترى أحمد 3 كتب و رالة حاسبة بقيمة 17 ريال ، واشترى محمد 3 كتب و حقيبة بقيمة 13 ريال ، فإذا كان ثمن الكتاب الواحد 3 ريال ، فما النسبة بين ثمن الآلة الحاسبة إلى

ثمن الحقيبة ؟

- 2 إلى 3
- 3 إلى 2
- 1 إلى 2
- 2 إلى 1

سؤال 8

غير مصنف بواسطة
المرجع 1
تم طرح هذا السؤال

الصفحة التالية

قام صاحب متجر بإخراج 2% مما مر عليه من صناديق فاكهة بسبب تلفها فإذا كان عدد ما أخرجته ستة صناديق . فكم صندوقاً مر عليه ؟

300 صندوق

120 صندوق

600 صندوق

30 صندوق

سؤال 22

غير معلم عليه بعد

الترجمة من 1

3 طر هذا السؤال

اشترى أحمد 3 كتب وآلة حاسبة بقيمة 17 ريال ، واشترى محمد 3 كتب و حقيبة بقيمة 13 ريال ، فإذا كان ثمن الكتاب الواحد 3 ريال ، فما النسبة بين ثمن الآلة الحاسبة إلى ثمن الحقيبة ؟

2 إلى 3

1 إلى 2

2 إلى 1

3 إلى 2

الصفحة التالية



A program that neither replicates or copies itself, but does damage or compromises the security of the computer.

Which 'Computer Virus' it is?

- Joke Program
- Worm
- Trojan
- Hoax

2022 || امارات

What is the result If (A=5) and (B=10), do Print A+B IF (B < A)?

- 10
- No thing
- 5
- 15

4

جاب عليه بعد
ة من 1
علم هذا السؤال

اكتب هنا للبحث

ex / عام / اضغط هنا لبدء (الاختبار 9:00 ص)



إختبار

9 ص

المحتوى

لقد

بما

على

بمناسبة عيد الأضحى المبارك اشترى محمد حلوى بقيمة 0
ريال عماني، وأخبره التاجر أن قيمة الوعاء الفخاري أقل عن
قيمة الحلوى بمبلغ 28 ريال، فما هو المبلغ الذي سيدفعه
محمد لو رغب في شراء الحلوى في وعاء فخاري؟

88 ريال

50 ريال

12 ريال

72 ريال

What do you call a computer on a network that requests files from another computer?

A router

A host

A web server

A client



اختبارات 2022

الوقت المتبقي 13:36

Which of the following is the valid host range for the subnet on which the IP address 192.168.168.188 resides?

- 192.168.168.129-190
- 192.168.168.128-192
- 192.168.168.128-190
- 192.168.168.129-191

سؤال 26

غير محبب عليه بعد
الدرجة من 1
تم تقييم هذا السؤال

الصفحة التالية

Which one of the following describes a computer's operating system?

- Software that controls the allocation and usage of hardware
- Hardware that can scan and convert photographs into digital files
- Hardware that can record and send images across the Internet
- Software that can retrieve information from a database

رات || 2022

'MPG' extension refers usually to what kind of file?

- Image file
- Animation/movie file
- MS Office document
- WordPerfect Document file

3

ب عليه بعد

1 ن

هذا السؤال

اكتب هنا للبحث

اختبارات 2022

الوقت المتبقي 0:13:54

بمناسبة عيد الأضحى المبارك اشترى محمد حلوى بقيمة 50 ريال عماني، وأخبره التاجر أن قيمة الوعاء الفخاري أقل عن قيمة الحلوى بمبلغ 28 ريال، فما هو المبلغ الذي سيدفعه محمد لو رغب في شراء الحلوى في وعاء فخاري؟

- 72 ريال
- 12 ريال
- 88 ريال
- 50 ريال

سؤال 34

غير محاب عليه بعد

الدرجة من 1

3 علم هذا السؤال

الصفحة التالية

تنقل الاختبار



What do we call a collection of two or more computers that are located within a limited distance of each other and that are connected to each other directly or indirectly?

Wide Area Network

Intranet

Internet

Local Area Network

أخـلِ اختياري

The most common format for a home video recorder is VHS. VHS stands for:

Video horizontal standard

Video Home System

Voltage house standard

Very high speed

أخِلِ اختياري

ضبطت ساعة حائط على الساعة السادسة صباحاً وكانت هذه الساعة تتأخر 20 دقيقة كل ساعة، فسوف تشير عقارب الساعة عند الساعة السادسة مساءً إلى ؟

الخامسة بعد الظهر

الثانية بعد الظهر

الثالثة بعد الظهر

الرابعة بعد الظهر

What do you call a computer on a network that requests files from another computer?

A web server

A client

A router

A host

أخـلِ اِختـياري

Which of the following is a way to create and modify tables using SQL Server?

Both of the two methods above will work

Use the graphical facilities of SQL Server Enterprise Manager only

Neither of the two methods above will work

Write SQL code using either CREATE or ALTER SQL statements only

أخِلِ اختياري

Another word for 'Graphics for a word processor'?

Highlight

Peripheral

Clip art

Execute

أخلِ اختياري

WAN stands for:

Wide Artificial Network

World Area Network

Wide Access Network

Wide Area Network

أخـلِ اختياري

Which one of the following is a characteristic of broadband?

- .High speed
- .Cost can vary from day to day
- .It has a dial up connection
- .Completely safe from intruders

أخـلِ اِختياري

Which one of the following measures the speed of the CPU?

.Bits per second (Bps)

.Gigahertz (GHz)

.Megabytes (MB)

.Gigabytes (GB)

أخِلِ اختياري

Which of the following basic protocols in networks?

SSL

POP

TCP/IP

FTP

أخلِ اختياري

If a new hard drive is installed in an old computer and the system does not register the total capacity of the hard drive, what is the most likely cause?

The hard drive is not compatible with the computer

The hard drive is malfunctioning

The hard drive is not read correctly by the BIOS

The computer motherboard is damaged

أخلِ اختياري

Computers calculate numbers in what mode?

Decimal

Binary

None of the above

Octal

أخلِ اختياري

What is not always necessary for accessing the Web?

A Web browser

A modem

A computer

A connection to an Internet Access Provider

أخـلِ اِختياري

Which of the following is an example of a standard IP access list?

access-list 1 deny 172.16.10.1 0.0.0.0

access-list standard 1.1.1

access-list 1 permit 172.16.10.1 255.255.0.0

access-list 110 permit host 1.1.1

أخل اختياري

A program that neither replicates or copies itself, but does damage or compromises the security of the computer. Which 'Computer Virus' it is?

Hoax

Joke Program

Trojan

Worm

أخلِ اختياري

What does AC and DC stand for in the electrical field?

A Rock Band from Australia

Atlantic City and District of Columbia

Average Current and Discharged Capacitor

Alternating Current and Direct Current

أخـلِ اِختـيارـي

عمر سعاد قبل 13 سنة يساوي (9) أمثال عمر ابنها الذي يصبح عمره بعد سنتين 6 سنوات . كم عمر سعاد الآن ؟

○ 49 سنة

○ 51 سنة

○ 40 سنة

○ 31 سنة

علي أطول من حسان، وصالح أقصر من علي ولكنه ليس في طول حسان. أي من العبارات التالية صحيحة؟

لا يمكن معرفة من منهما أطول

حسان أطول من صالح

صالح أطول من حسان

صالح وحسان بطول واحد

أخلِ اختياري

تبارات || 2022

عمر معاد قبل 13 سنة يساوي (9) أمثال عمر ابنها الذي يصبح عمره بعد سنتين 6 سنوات . كم عمر معاد الآن ؟

- 40 سنة
- 51 سنة
- 49 سنة
- 31 سنة

34

مجاب عليه بعد

جدة من 1

تعليم هذا السؤال

الصفحة التالية

olbar? Not in Arabic? [Help us improve](#)
n using a secure connection. [Learn more](#)

Translate

Turn off Arabic translati

(SQU E-LEARNING SYSTEM (ACADEN

ختبارات || 2022

اشترى أحمد 3 كتب وآلة حاسبة بقيمة 17 ريال ، واشترى محمد 3 كتب و حقيبة بقيمة 13 ريال فإذا كان ثمن الكتاب الواحد 3 ريال ، فما النسبة بين ثمن الآلة الحاسبة إلى ثمن الحقيبة ؟

- 2 إلى 3
- 1 إلى 2
- 3 إلى 2
- 2 إلى 1

سؤال 10

عبر معالج عليه بعد
الدرجة من 1
3 تُعَم هذا السؤال

اختبارات || 2022

بمناسبة عيد الأضحى المبارك اشترى محمد طوى بقيمة 50 ريال عماني، وأخبره التاجر أن قيمة الوعاء الفخاري لكل عن قيمة الطوى بمبلغ 28 ريال، فما هو المبلغ الذي سيدفعه محمد لو رغب في شراء الطوى في وعاء فخاري؟

- 72 ريال
- 50 ريال
- 88 ريال
- 12 ريال

سؤال 15

نقطة سؤال 1

الدرجة من 1

3 عليم هذا السؤال

الصفحة التالية

ختبارات || 2022

بمناسبة العيد الوطني اشترى علي عشرة أعلام عمانية بسعر ريالين للعلم الواحد، وخصم له 5% من السعر الإجمالي للأعلام، فكم ريالاً دفع قيمة الأعلام؟

- 21 ريال
- 19 ريال
- 20 ريال
- 19.5 ريال

سؤال 6

غير محاب عليه بعد

الدرجة من 1

3 علم هذا السؤال

الصفحة التالية

Which of the following word processors came first?

WordPerfect

WordStar

Lotus Notes

MS Word

أخـلِ اِختـياري

اختبارات || 2022

قام صاحب متجر بإخراج 2% مما مر عليه من صناديق فأكهة بسبب تلفها فإذا كان عدد ما أخرجته ستة صناديق . فكم صندوقاً مر عليه ؟

30 صندوق

300 صندوق

120 صندوق

600 صندوق

أدخل اختياري

سؤال 11

غير محاب عليه بعد

للدرجة من 1

3 علم هذا السؤال

الوقت المتبقي 20

اشترى أحمد 3 كتب و آلة حاسبة بقيمة 17 ريال ، واشترى محمد 3 كتب و حقيبة بقيمة 13 ريال ، فإذا كان ثمن الكتاب الواحد 3 ريال ، فما النسبة بين ثمن الآلة الحاسبة إلى ثمن الحقيبة ؟

3 إلى 2

1 إلى 2

2 إلى 3

2 إلى 1

الصفحة الثالثة

2022 ||

What does a VLAN do?

- Breaks up broadcast domains in a layer 2 switch internetwork
- Acts as the fastest port to all servers
- Provides multiple collision domains on one switch port
- Provides multiple broadcast domains within a single collision domain

Which one of the following is a characteristic of broadband?

- .Completely safe from intruders
- .Cost can vary from day to day
- .It has a dial up connection
- .High speed

بمناسبة العيد الوطني اشترى طلي عشرة اعلام عمالية بسعر ريالين للعلم الواحد، وخصم له 5% من السعر الإجمالي للأعلام، فكم ريالاً دفع قبعة الأعلام؟

19 ريال

20 ريال

21 ريال

19.5 ريال

Computers calculate numbers in what mode?

- Binary
- Decimal
- None of the above
- Octal

سؤال 24

غير محبب عليه بعد

الدرجة من 1

٣ عليم هذا السؤال

اختبارات 2022

الوقت المتبقي

ضبطت ساعة خانق على الساعة السادسة صباحاً وكانت هذه الساعة تتأخر 20 دقيقة كل ساعة، فسوف تشير عقارب الساعة عند الساعة السادسة مساءً إلى

- الثانية بعد الظهر
- الرابعة بعد الظهر
- الثالثة بعد الظهر
- الخامسة بعد الظهر
- آخر اختياري

سؤال 34

غير محاب على بعد

الدرجة من 1

3 خطأ السؤال

بمناسبة العيد الوطني اشترى علي عشرة أعلام عمانية بسعر
ريالين للعلم الواحد، وخصم له 5 % من السعر الإجمالي
للأعلام، فكم ريالاً دفع قيمة الأعلام ؟

○ 21 ريال

○ 20 ريال

○ 19 ريال

○ 19.5 ريال

يمارس ناصر و سعيد و أحمد كرة القدم ، و يمارس ناصر و أحمد كرة السلة ، بينما يمارس سعيد و خلفان التنس . من منهم يمارس كرة القدم و التنس ؟

سعيد

خلفان

ناصر

أحمد



AA

elearn.squ.edu.om



حساب soft

البريد - Dhuha Al-Na...

exam_2022_ar: ...

بدء (الاخذ...)

(SQU E-LEARNING SYSTEM (AC

امارات || 2022

الوقت

What does a VLAN do?

- Provides multiple broadcast domains within a single collision domain
- Provides multiple collision domains on one switch port
- Breaks up broadcast domains in a layer 2 switch internetwork
- Acts as the fastest port to all servers

35

بعد

سؤال

الاص

تجار

سر شامس النعمانية

19377

9	18	17	16	15	14	13	12	11	10	9	8	7	6	5	4	3	2
9	38	37	36	35	34	33	32	31	30	29	28	27	26	25	24	23	22

ولة ...

2022 ||


لدى عامر مزرعة أبقار، تعود أن يبيع منها (200) بقرة شهرياً، ونظروفاً ما يباع عامر في بداية هذا الشهر (30) بقرة فقط، كم بقرة يظل يبيعها حتى نهاية الشهر حتى يصبح عدد المبيعات المعتادة؟

40 بقرة

170 بقرة

150 بقرة

120 بقرة



EN



ت || 2022

عمر سعاد قبل 13 سنة يساوي (9) أمثال عمر ابنها الذي يصبح عمره بعد سنة

40 سنة

49 سنة

31 سنة

51 سنة

أهل اختياري

Which of the following is an example of a standard IP access list?

access-list 1 permit 172.16.10.1 255.255.0.0

access-list 110 permit host 1.1.1.1

access-list 1 deny 172.16.10.10.0.0.0

access-list standard 1.1.1.1

39

باب عليه بعد

من 1

هذا السؤال

Which of the following word processors came first?

WordStar

Lotus Notes

WordPerfect

MS Word

سؤال 23

رجاءً اجاب عليه بعد

1 من 1

طرح هذا السؤال



علي أطول من حسان، وصالح أقصر من علي ولكنه ليس في طول حسان. أي من العبارات التالية صحيحة؟

- لا يمكن معرفة من منهما أطول
- صالح وحسان بطول واحد
- صالح أطول من حسان
- حسان أطول من صالح

هذا السؤال

اختبارات 2022

تقل الاختبار

الوقت المتبقي 0:10:30

18036408

ألاء على حدك الة اختبارة

What do we call a collection of two or more computers that are located within a limited distance of each other and that are connected to each other directly or indirectly?

- Internet
- Local Area Network
- Intranet
- Wide Area Network

الاجابة الصحيحة

4	3	2	1
13	12	11	10
22	21	20	19
31	30	29	28
40	39	38	37

31 سؤال
ظير صحف خطيه بعد
الترقية من 1
م غير هذا السؤال

اختبارات 2022

الوقت المتبقي 0:18:14

تقابل ستة أشخاص في مكن ما ، فإذا صالغ كل شخص منهم الآخر مرة واحدة فقط ، فكم عدد المصالحات التي تمت ؟

- 18 مرة
- 15 مرة
- ست مرات
- 12 مرة

سؤال 23

غير معط عليه بعد
الدرجة من 1
تم حلها هذا السؤال

المصحة التالية

اختبارات || 2022

the valid host range for the subnet on which the IP address 192.168.168.188
255.255.255.192 resides?

- 192.168.168.129-190
- 192.168.168.128-192
- 192.168.168.128-190
- 192.168.168.129-191

سؤال 15

غير محاب عليه بعد

الدرجة من 1

حتم هذا السؤال

09:15
21/07/2022

عمر سعاد قبل 13 سنة يساوي (9) أمثال عمر ابنها الذي يصبح عمره بعد سنتين 6 سنوات . كم عمر سعاد الآن ؟

51 سنة

40 سنة

31 سنة

49 سنة

What does a VLAN do?

- Provides multiple collision domains on one switch port
- Provides multiple broadcast domains within a single collision domain
- Acts as the fastest port to all servers
- Breaks up broadcast domains in a layer 2 switch internetwork

اختبارات || 2022

الوقت المتبقي 0:07:31

سؤال 38

غير مجاب عليه بعد

الدرجة من 1

علم هذا السؤال

A program that neither replicates or copies itself, but does damage or compromises the security of the computer. Which 'Computer Virus' it is?

Joke Program

Trojan

Worm

Hoax

أخل اختياري

اختبارات || 2022

الوقت المتبقي 0:21:37

سؤال 24

غير مجاب عليه بعد

الدرجة من 1

علم هذا السؤال

What do we call a collection of two or more computers that are located within a limited distance of each other and that are connected to each other directly or indirectly?

Intranet Wide Area Network Local Area Network Internet

الصفحة التالية

تنقل الاختبار



اختبارات || 2022

الوقت المتبقي 0:43:29

سؤال 3

غير مجاب عليه بعد

الدرجة من 1

علم هذا السؤال

If a new hard drive is installed in an old computer and the system does not register the total capacity of the hard drive, what is the most likely cause?

- The hard drive is not read correctly by the BIOS
- The hard drive is malfunctioning
- The computer motherboard is damaged
- The hard drive is not compatible with the computer



elearn.squ.edu.om



٤٤



اختبارات || 2022

الوقت المتبقي 0:18:00

سؤال 28

غير مجاب عليه بعد

الدرجة من 1

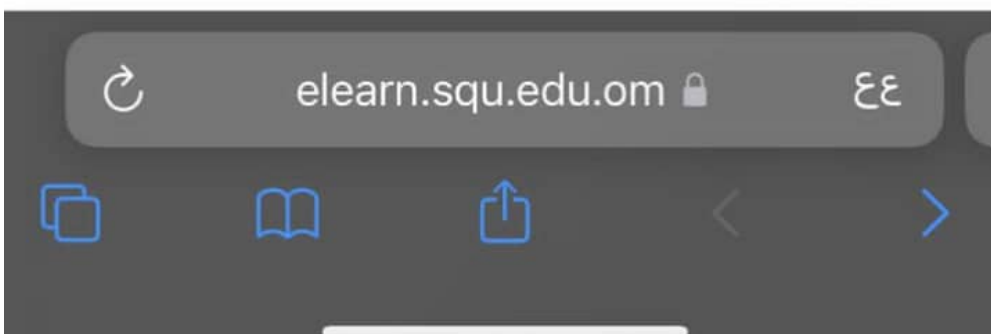
علم هذا السؤال

What's a web browser?

- A computer that stores WWW files
- A software program that allows you to access sites on the World Wide Web
- A person who likes to look at websites
- A kind of spider

الصفحة التالية

تنقل الاختبار



Which of the following is a way to create and modify tables using SQL Server?

Use the graphical facilities of SQL Server Enterprise Manager only

Neither of the two methods above will work

Write SQL code using either CREATE or ALTER SQL statements only

Both of the two methods above will work

الوقت المتبقي 0:39:26

سؤال 7

غير مجاب عليه بعد

الدرجة من 1

علم هذا السؤال

Which of the following word processors came first?

WordStar

MS Word

WordPerfect

Lotus Notes

الصفحة التالية

تنقل الاختبار



جواهر صالح خميس المسكرية

22813331

ت || 2022

عمر سعاد قبل 13 سنة يساوي (9) أمثال عمر ابنتها الذي يصبح عمره بعد سنة

40 سنة

49 سنة

31 سنة

51 سنة

أهل اختياري

Which one of the following describes a firewall ?

- A program that replicates itself across the network (usually riding on email messages or attached documents)
- System maintain a file that associates a password with each authorized user
- Isolates organization's internal net from larger Internet, allowing some packets to pass, blocking others
- Gateway sits between user on inside and server on outside. Instead of talking directly, user and server talk through proxy

الوقت المتبقي 0:23:56

سؤال 22

غير مجاب عليه بعد

الدرجة من 1

علم هذا السؤال

Which one of the following describes a computer's operating system?

- Hardware that can scan and convert photographs into digital files
- Software that can retrieve information from a database
- Software that controls the allocation and usage of hardware
- Hardware that can record and send images across the Internet

اختبارات || 2022

الوقت المتبقي 0:41:28

سؤال 5

غير مجاب عليه بعد

الدرجة من 1

علم هذا السؤال

Computers calculate numbers in what mode?

None of the above Binary Decimal Octal

أخل اختياري

الصفحة التالية

تنقل الاختبار



elearn.squ.edu.om

٤٤



بمناسبة عيد الأضحى المبارك اشترى محمد حلوى بقيمة 0
ريال عماني، وأخبره التاجر أن قيمة الوعاء الفخاري أقل عن
قيمة الحلوى بمبلغ 28 ريال، فما هو المبلغ الذي سيدفعه
محمد لو رغب في شراء الحلوى في وعاء فخاري؟

88 ريال

50 ريال

12 ريال

72 ريال

اختبارات || 2022

سؤال 15

غير محاب عليه بعد

الدرجة من 1

حتم هذا السؤال

the valid host range for the subnet on which the IP address 192.168.168.188
255.255.255.192 resides?

- 192.168.168.129-190
- 192.168.168.128-192
- 192.168.168.128-190
- 192.168.168.129-191

09:15
21/07/2022